

Thème 2 : Pourquoi et comment aménager le territoire ?

Séquence 9 : Les territoires ultramarins français, une problématique spécifique

www.objectifhg.com

Année scolaire 2021-2022

Mme Krawczyk - Mme Cumin

Compétences travaillées	Plan du cours	Mots-clefs
Nommer, localiser un lieu dans un espace géographique Réaliser des productions cartographiques Trouver, sélectionner et exploiter des informations	Introduction Connaissances/ Capacités <ul style="list-style-type: none">□ Identifier les atouts que représentent les territoires ultramarins pour la métropole française	<ul style="list-style-type: none">□ une ZEE□ un territoire ultramarin□ un DROM, un COM
	Séance 1 : Des territoires aux caractéristiques communes Connaissances/ Capacités <ul style="list-style-type: none">□ Identifier les points communs et la diversité des territoires ultramarins□ Décrire les contraintes de l'aménagement des territoires ultramarins□ Identifier les acteurs de l'aménagement des territoires d'outremer□ Identifier les inégalités/déséquilibres des territoires ultramarins Repères <ul style="list-style-type: none">□ Situer et localiser les territoires ultramarins sur un planisphère (p.346-347)	<ul style="list-style-type: none">□ l'enclavement□ l'insularité□ un aléa□ une collectivité territoriale
	Séance 2 : DROM COM POM TOM, des territoires spécifiques à aménager Connaissances/ Capacités <ul style="list-style-type: none">□ Identifier les atouts et les contraintes/déséquilibres/inégalités de l'île de la Réunion□ Identifier les acteurs de l'aménagement sur l'île de la Réunion□ Nommez des exemples d'aménagements visant à réduire les inégalités/déséquilibres sur l'île de la Réunion Repères <ul style="list-style-type: none">□ Situer et localiser l'île de la Réunion	<ul style="list-style-type: none">□ la métropole□ la continuité territoriale

Coup de pouce Brevet

➤ Etude de document : Vous aurez à étudier un exemple d'aménagement du territoire. Vous devrez décrire les inégalités/déséquilibres qu'il doit corriger, ses objectifs, ses liens avec le développement durable. Vous devrez également présenter les acteurs du projet.

Je définis le sujet de la Séquence 9

Où ? _____

Quand ? _____

Qui/Quoi ? _____

###

Introduction

📖 Planisphère p.346

a/ L'autonomie des territoires ultramarins se traduit par 3 statuts différents. Lesquels ?

b/ Où se situent ces territoires ultramarins ? _____

= Complétez le planisphère distribué à l'aide de la p.346 du manuel =

Nous avons le deuxième espace maritime/ZEE au Monde avec 11 millions de km², des milliers de kilomètres de côtes [...].

Source : *Le Figaro*, Interview de N. Kosciusko-Morizet, 8 juin 2011

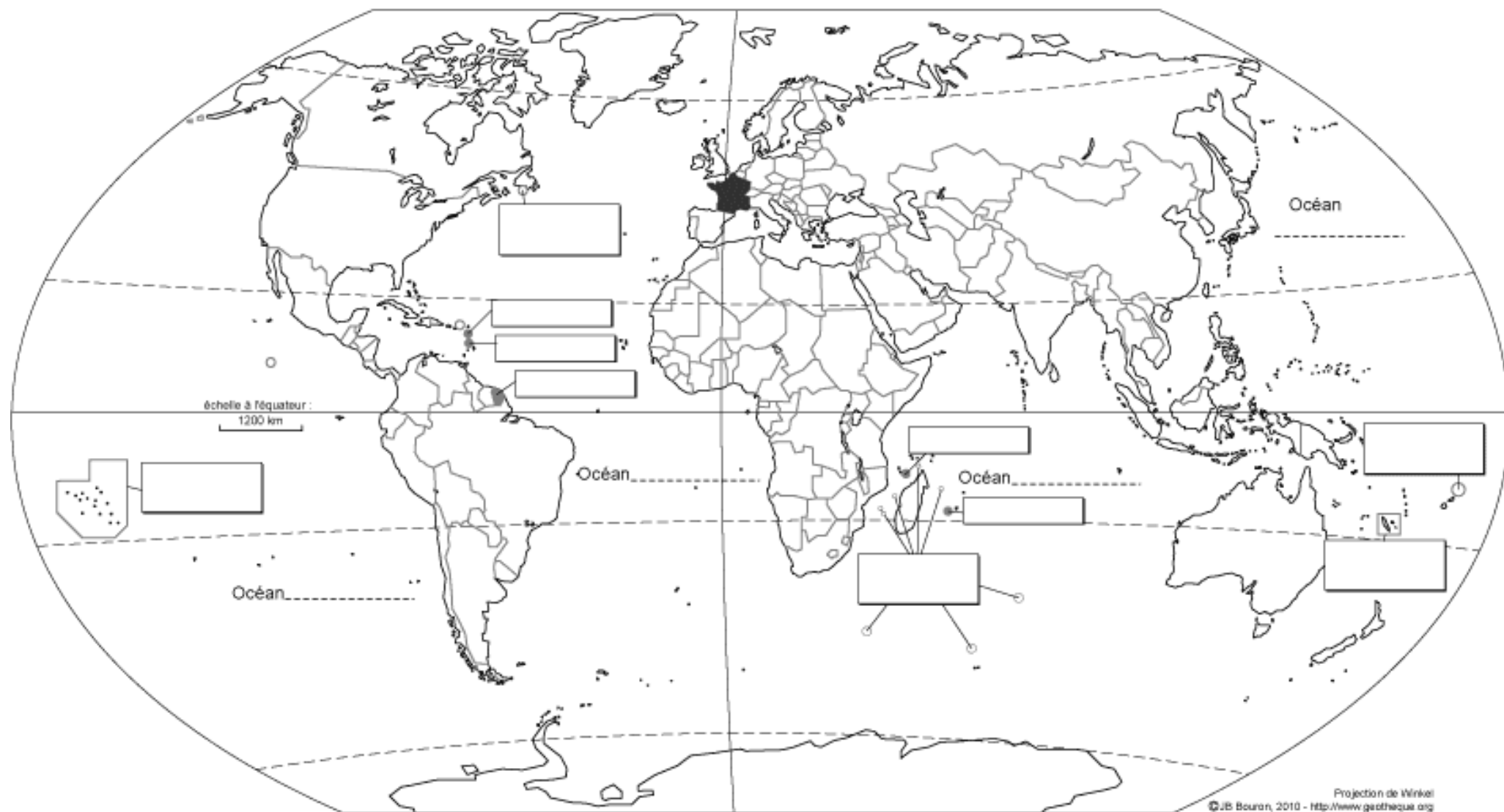
c/ Quel est l'atout des territoires ultramarins [pour la France] évoqué par l'auteur dans ce document ? _____

Une Zone Economique Exclusive (ZEE) est _____

Trace écrite : Grâce à ses territoires ultramarins, la France possède la deuxième ZEE de la planète et est présente sur l'ensemble des continents et océans du globe. Toutefois, les DROM COM TOM POM sont des territoires spécifiques qui nécessitent des aménagements particuliers afin de réduire les déséquilibres et les inégalités.

Problématique : Comment aménager les territoires ultramarins pour réduire les déséquilibres et les inégalités tout en préservant l'environnement ?

L'Outre-Mer français



PTOM (Pays et Territoires d'Outre-Mer)

- DOM-ROM Départements et Régions d'Outre-Mer
- COM Collectivités d'Outre-Mer
- TAAF Terres Australes et Antarctiques Françaises

exception : Mayotte (Département d'Outre-Mer)

exception : Nouvelle Calédonie (COM à statut particulier)

Séance 1 : Des territoires aux caractéristiques communes

Doc. Des territoires ultramarins aux caractéristiques communes

a. Le tourisme

« Le tourisme est [...] une activité majeure de la France d'outre-mer [...]. Cinq grands aéroports structurent le marché touristique ultramarin : Fort-de-France, Pointe-à-Pitre, Saint-Denis, Nouméa et Papeete. [...] Des concentrations hôtelières bien reliées à l'aéroport international et à la ville principale se forment sur le littoral. [...] »

D'après Yves Colombel et Daniel Oster, *La France, Territoires et aménagement face à la mondialisation*, Nathan, 2014.

b. La tropicalité

« Les territoires ultramarins, en dehors de Saint-Pierre-et-Miquelon et des TAAF¹ sont caractérisés par la tropicalité. Exception faite de la Guyane, [...] ce sont des îles [...] soumises aux alizés, vents [...] qui provoquent de fortes pluies. [...] Le relief est souvent volcanique. [...] Les territoires ultramarins offrent de vastes forêts. »

D'après M. Reghezza-Zitt, *La France dans ses territoires*, Sedes, 2011.
1. Terres australes et antarctiques françaises.

c. L'insularité

« Du fait de leur insularité, les territoires ultramarins sont marqués par l'isolement. Les échanges commerciaux se font essentiellement avec la métropole et les relations avec les pays voisins restent encore limitées. »

© Hatier, 2021.

g. Une contribution importante à la ZEE française

Nous avons le deuxième espace maritime au Monde avec 11 millions de km², des milliers de kilomètres de côtes [...]. La France représente, à elle seule, 10% de la biodiversité de la planète et 20% des atolls grâce à l'Outre-Mer.

Source : *Le Figaro*, Interview de N. Kosciusko-Morizet, 8 juin 2011

Consigne n°1 : A l'aide des textes ci-dessus, complétez le tableau ci-dessous

ID1 : Des caractéristiques géographiques et physiques contraignantes x4	ID2 : Une intégration régionale limitée x3	ID3 : Des atouts et ressources x3

d. Des territoires tournés vers la métropole et l'UE

« L'ampleur des flux financiers venant de métropole fait de chaque territoire ultramarin un îlot de richesse au sein d'un environnement [régional] relativement pauvre [...] posant des problèmes d'immigration, tout particulièrement à Mayotte, en Guyane et à Saint-Martin. Cette prospérité est très largement due aux importantes aides de la métropole et de l'Union européenne. »

D'après J.-F. Gay, www.documentationfrançaise.fr, 29 avril 2009.

e. La réalité agricole de l'Outre-mer

« L'héritage historique colonial a laissé des traces durables dans l'agriculture. La logique coloniale, tournée vers les cultures d'exportation, a privilégié les cultures de la canne (transformée en sucre ou en rhum), de la banane, de la vanille, des plantes à parfum ou encore de l'ananas, au détriment des productions vivrières. »

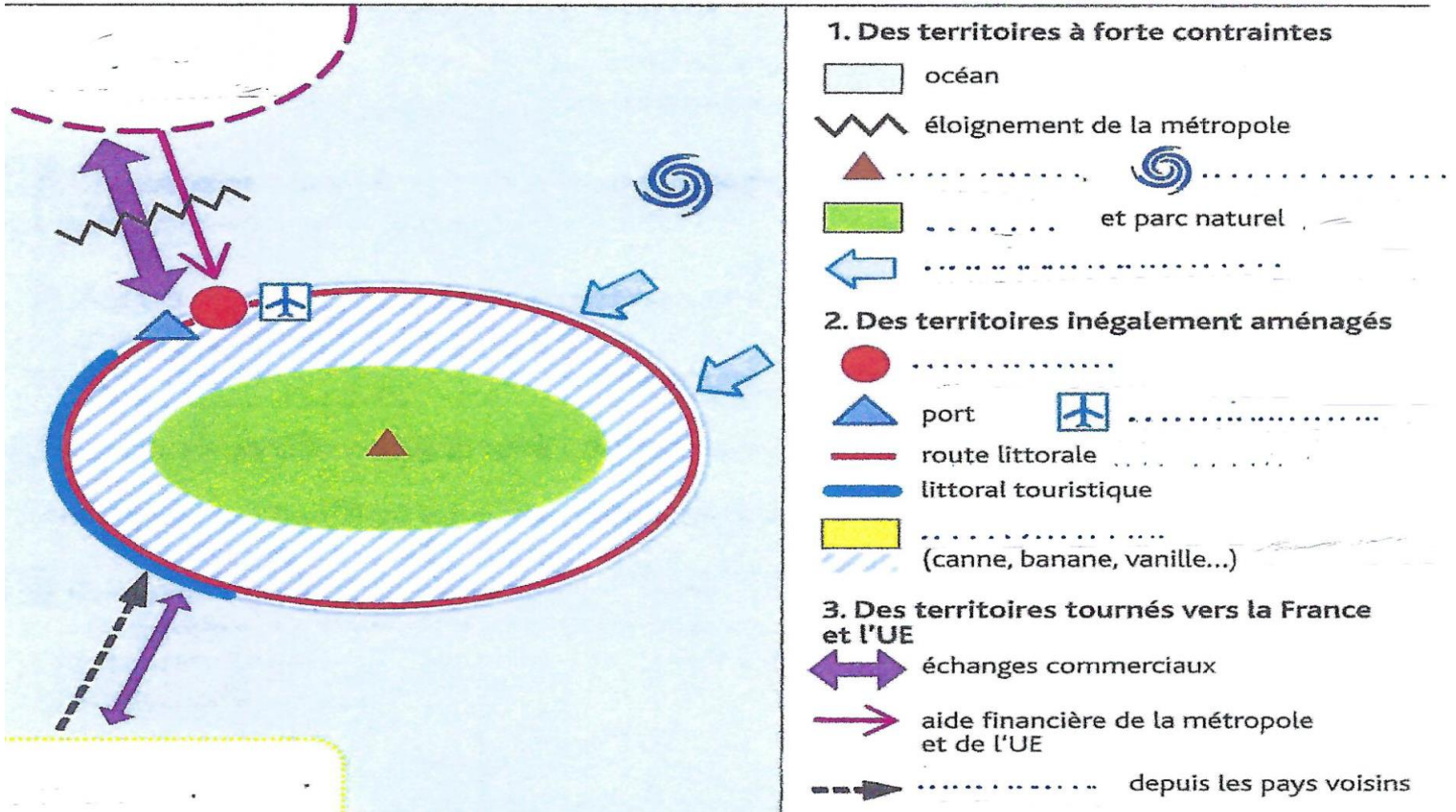
Extrait du rapport d'information « Quelle réforme pour la politique agricole commune ? » n° 466 (1997-1998) de M. Deneux et J.-P. Emorine, fait au nom de la Commission des affaires économiques, 2 juin 1998.

f. Des risques naturels importants

« Dans les Antilles, le cyclone Irma a ravagé les îles de Saint-Barthélemy et Saint-Martin en septembre 2017 puis l'ouragan Maria a dévasté les bananeraies de la Guadeloupe et la Martinique qui avaient subi la tempête Matthew en 2016. L'île de La Réunion est exposée au volcanisme et aux cyclones qui engendrent des inondations et des mouvements de terrain provoqués par des précipitations très importantes. »

Consigne n°2 : Compléter le schéma et sa légende à l'aide des mots soulignés dans les textes

TITRE : Les caractéristiques des territoires ultramarins insulaires



Séance 2 : Des aménagements spécifiques afin de réduire les déséquilibres

a/ A l'aide du planisphère p.346 et de la carte 2 p.341, situez l'île de la Réunion

b/ (Doc.1 p.340 + 2 p.341 + 4 p.341) Quelles sont les contraintes d'aménagement du territoire ?

c/ (Doc.1 p.340 + Doc.4 p.341) Quels sont les atouts du territoire ?

d/ (Doc.3 p.341 + 5 p.342 + vidéos <https://www.youtube.com/watch?v=RrjW1oq1EYM> puis <https://youtu.be/1ctkAVEI-9Y>) Quels sont les besoins en aménagements de ce territoire ? Quels sont les objectifs de ces aménagements ? Quels aménagements ont été réalisés ?

- **Besoins d'aménagements** = _____

- **Objectifs de ces aménagements** = _____

- **Réalisations** =

- _____

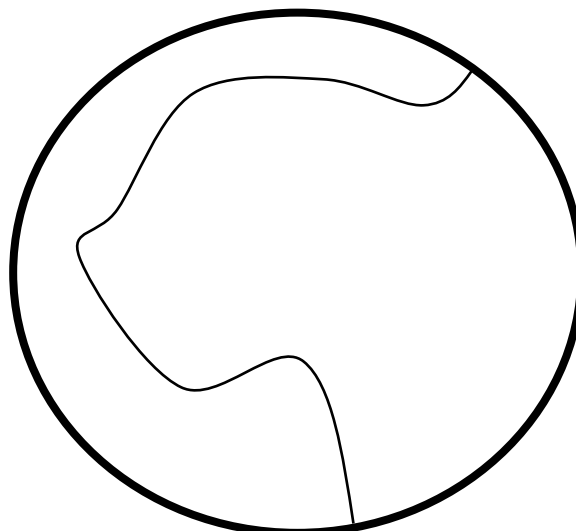
- _____

- _____

e/ Effectuez une recherche pour savoir qui finance la route du littoral. Indiquez votre source.

f/ A l'aide de l'étude documentaire réalisée et de la carte 2 p.341, compléter le schéma...




- Localiser les figurés des ID1 et ID2 de la légende
- Ajouter une ID3 liée à la question d/ (figurés et légende)



1. L'organisation spatiale de l'île

-  Aéroport
-  Espace de forte densité
-  Espace naturel escarpé
-  Principale ville
-  Principale route
-  Tourisme vert
-  Littoral touristique

2. Les liens avec la métropole et l'UE

-  Éloignement géographique
-  Aides financières
-  Flux touristiques

3.

Conclusion : Les DROM bénéficient d'aides de l'Etat, de l'UE et des collectivités territoriales pour compenser leurs handicaps et valoriser leurs atouts. Pour ces territoires aux contraintes géographiques importantes, le développement des infrastructures transports est essentiel. Mais la politique d'aménagement des territoires ultramarins cherche globalement à répondre aux besoins des habitants, à réduire les inégalités et à développer les activités économiques (tourisme et cultures spécialisées) tout en préservant des espaces fragiles marqués par une biodiversité importante

La métropole est (dans cette séquence) le nom qui désigne le territoire continental français.

La continuité territoriale est le principe visant à fournir les mêmes prestations et les mêmes services, notamment en matière d'aménagement, à tous les habitants d'un territoire.

Une fracture sociale est les fortes inégalités économiques et sociales entre les habitants d'un territoire.

L'insularité est la situation d'une île éloignée et isolée des terres continentales.

Exercices d'entraînement à rendre... ou pas... avant le 21 mars

 Dossier p.340 à 343 (sauf les documents 5 et 6), L'aménagement du territoire sur l'île de la Réunion

Documents	Objectifs des aménagements	Aménagements	Acteur(s)
Doc.5 et 6 p.342-343			
Doc.8 p.343			
Doc.2 p.341			